



Der Polizei Einstellungstest



Konzentrationstest



Noch mehr Übungen, Tipps und spannendes Videomaterial auf
www.plakos-akademie.de

Der Polizei Einstellungstest

Konzentrationstest

Mit diesem PDF kannst Du Deine Konzentrationsfähigkeiten auf die Probe stellen. Auf den ersten Blick erscheinen die Aufgaben ganz einfach. Die Schwierigkeit liegt auch nicht in den Aufgaben selbst, sondern die Aufgaben unter bestimmten äußeren Einflussfaktoren zu meistern.


In einem ruhigen Raum, unbeobachtet und ohne Zeitdruck kann die folgenden Aufgaben wohl jeder mit Leichtigkeit lösen. Doch dies ist nicht Dein Ziel. Steigere also den Schwierigkeitsgrad:



- Setze Dir ein Zeitlimit. Stelle gut sichtbar vor Dir eine Stoppuhr auf und lasse die Zeit rückwärts herunter zählen.
- Verlasse dein ruhiges Zimmer. Setze Dich in einen belebten Park, in ein lautes Café oder schalte den Fernseher und Musik im Hintergrund an.
- Löse die Aufgaben nach einer intensiven Sparteinheit.

Was ist anders?

Was ist auf dem rechten Bild anders als auf dem linken Bild?



Fehlercheck

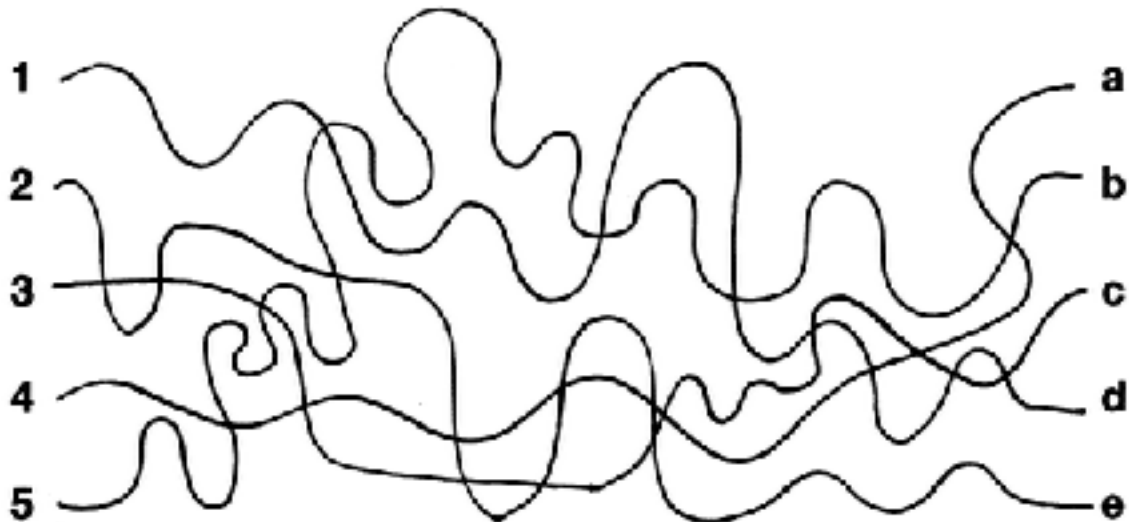
Welche Fehler haben sich in der unteren Tabelle eingeschlichen?

| | | | |
|------------------------|------------|-----------------------|-------------------|
| Lena Sina Müller | 14.02.1986 | Streuselstraße 8 | 76143 Bad Neuland |
| Cernan Otzkün | 26.12.2004 | Lindenblütenweg 192a | 98352 Kesseln |
| María Alejandra López | 09.03.1999 | Viereckenstedt 44-47 | 23626 Aschen |
| Phillipp Leon Gerssler | 12.07.1963 | Rotterdendronweg 1 | 61449 Steltzen |
| Christine Tannenweich | 31.01.2010 | An der Taubenweide 23 | 42097 Wiehern |

| | | | |
|-----------------------|------------|-----------------------|-------------------|
| Lena Tina Müller | 14.02.1966 | Streuselstraße 8 | 76148 Bad Neuland |
| Cernan Otzkun | 26.12.2004 | Lindenblütenstr. 192a | 98352 Keßeln |
| María Alejandra López | 09.08.1999 | Viereckenstett 44-47 | 23626 Aachen |
| Philipp Leon Gerssler | 12.07.1863 | Rottardendronweg 1 | 61449 Steltzen |
| Christine Tannenweich | 31.01.2010 | An der Taubenweide 23 | 42097 Wiehern |

Linienverfolgung

Welche Nummer führt zu welchem Buchstaben?




Kopfrechnen

Bei dieser Übung unbedingt ein Zeitlimit setzen!

| | | |
|-------------|----------------|----------------|
| $12 + 24 =$ | $103 - 86 =$ | $104 + 23 =$ |
| $76 + 98 =$ | $987 - 276 =$ | $12 * 4 =$ |
| $95 + 43 =$ | $473 - 520 =$ | $873 + 270 =$ |
| $63 + 61 =$ | $866 - 76 =$ | $56 - 74 =$ |
| $56 + 9 =$ | $327 - 299 =$ | $999 - 456 =$ |
| $8 + 73 =$ | $99 - 87 =$ | $8 * 9 =$ |
| $17 + 18 =$ | $270 - 324 =$ | $763 + 34 =$ |
| $34 + 97 =$ | $1025 - 633 =$ | $620 + 1203 =$ |
| $68 + 13 =$ | $731 - 24 =$ | $98 - 76 =$ |

Labyrinth

Welcher Weg führt durch das Labyrinth?





Schon fertig?
... noch mehr Aufgaben?

Weitere Übungen, Informationen, Erfahrungsberichte und Tipps
findest Du unter:

<https://eignungsauswahlverfahren.de/testfelder/reaktions-und-konzentrationstest/> und <https://eignungsauswahlverfahren.de/testfelder/wiener-test/>

oder auch auf www.plakos-akademie.de!



Lösungen

Was ist anders?

- Traktor und Segelboot sind gespiegelt
- Würfel zeigt die Augenzahl 5 und nicht 1
- 2 statt 3 Büroklammern
- Graues Steuerrad im Hintergrund fehlt

Fehlercheck

| | | | |
|-----------------------|------------|-----------------------|-------------------|
| Lena Tina Müller | 14.02.1966 | Streuselstraße 8 | 76148 Bad Neuland |
| Cernan Otzkun | 26.12.2004 | Lindenblütenstr. 192a | 98352 Keßeln |
| María Alejandra López | 09.08.1999 | Viereckenstett 44-47 | 23626 Aachen |
| Philipp Leon Gerssler | 12.07.1863 | Rottardendronweg 1 | 61449 Steltzen |
| Christine Tannenweich | 31.01.2010 | An der Taubenweide 23 | 42097 Wiehern |

Linienverfolgung

- 1 - d
- 2 - e
- 3 - c
- 4 - a
- 5 - b

Kopfrechnen

| | | |
|-----------------|--------------------|----------------------|
| $12 + 24 = 36$ | $103 - 86 = 17$ | $104 + 23 = 127$ |
| $76 + 98 = 174$ | $987 - 276 = 711$ | $12 * 4 = 48$ |
| $95 + 43 = 138$ | $473 - 520 = - 47$ | $873 + 270 = 1.143$ |
| $63 + 61 = 124$ | $866 - 76 = 790$ | $56 - 74 = - 18$ |
| $56 + 9 = 65$ | $327 - 299 = 28$ | $999 - 456 = 543$ |
| $8 + 73 = 81$ | $99 - 87 = 12$ | $8 * 9 = 72$ |
| $17 + 18 = 35$ | $270 - 324 = - 54$ | $763 + 34 = 797$ |
| $34 + 97 = 131$ | $1025 - 633 = 392$ | $620 + 1203 = 1.823$ |
| $68 + 13 = 81$ | $731 - 24 = 707$ | $98 - 76 = 22$ |

Labyrinth



Noch mehr Übungsaufgaben und Tipps?
www.plakos-akademie.de